

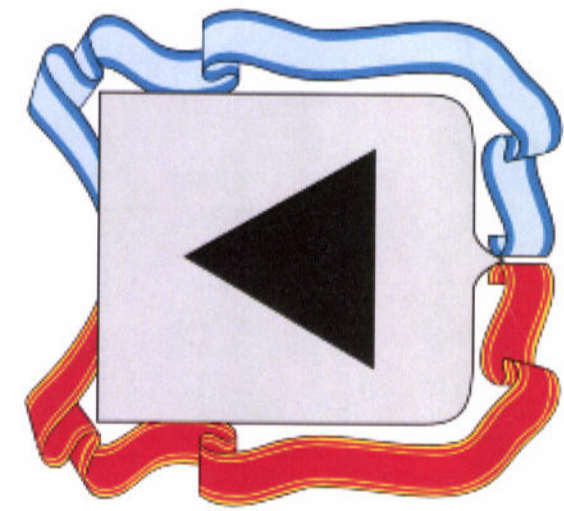
4.2. Расположите моря(заливы) в порядке от самого северного к самому южному.

- север
1. Берингово море
 2. море Баренца
 3. Чукотское море
 4. Красное море
 5. Балтийское море
- юг

$$12 + 2 = 14$$

Задание 5

Рассмотрите герб города и ответьте на вопросы.



- 5.1. Назовите населенный пункт, являющийся городом областного значения одного из субъектов РФ, расположенного на Южном Урале, герб которого представлен на картинке.
- 5.2. Какая отрасль специализации промышленности исторически связана с этим городом?
- 5.3. В одной из известных повестей А.С. Пушкина описывается штурм Белогорской крепости, прообразом которой является данный город. Назовите повесть.
- 5.4. В начале сентября 1829 г. крепость на месте будущего города посетили немецкие ученые, предпринимавшие путешествие по Российской империи по приглашению тогдашнего министра финансов графа Е.Ф. Канкрин, и открывшие в период экспедиции месторождения новых минералов, впоследствии они были нанесены на карту. Возглавлял экспедицию известный ученый-энциклопедист, «Аристотель девятнадцатого века», как называли его современники, заложивший основы многих географических наук (физической географии, ландшафтоведения, биогеографии, климатологии и др.). Назовите его.
- 5.5. Городом-побратимом данного города является город в Казахстане, расположенный ниже по течению той же реки, до 1991 г. этот город носил название Гурьевск. Назовите его современное название.

Ответы:

- 5.1. Вязка Машинского
- 5.2. Войска каменные ула
- 5.3. Камчатская дельта
- 5.4. Вернадский
- 5.5. Караганда

8



567-решение

1007

ПИСЬМЕННАЯ РАБОТА УЧАСТНИКА ОЛИМПИАДЫ ШКОЛЬНИКОВ СПБГУ 2017-2018

заключительный этап

Предмет (комплекс предметов) Олимпиады **ГЕОГРАФИЯ (06-08 класс)**

Город, в котором проводится Олимпиада Санкт-Петербург

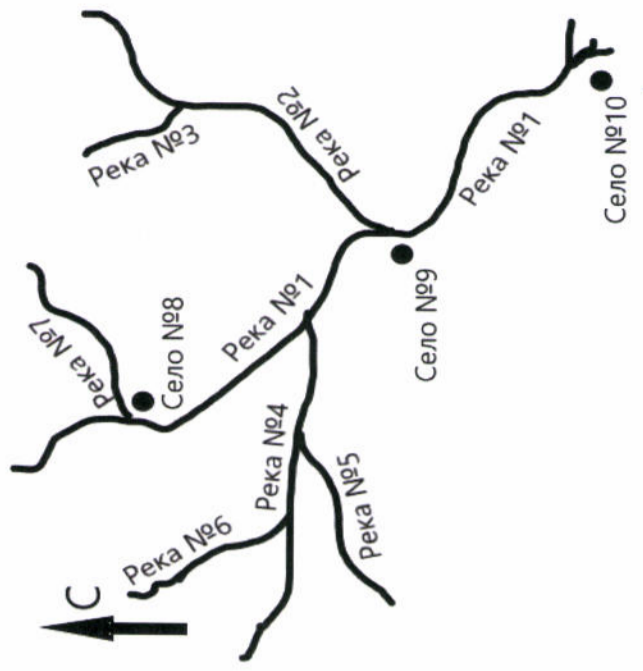
Дата 03.03.2018

Вариант 2

Задание 1

Внимательно прочитайте описания и сопоставьте номера объектов с их названиями.

1. Реки Грязновка, Листвянка и Обозовка являются левыми притоками;
2. Село Базарное расположено южнее села Пантелеймоново;
3. Река Славка имеет два притока;
4. Реки Полёвка, Грязновка и Кривянка являются притоками второго порядка;
5. Село Котомкино расположено западнее села Пантелеймоново;
6. Из реки Славки в реку Грязновку можно попласть, если плыть вверх по течению реки Тёмной;
7. Село Пантелеймоново расположено в месте слияния рек Тёмной и Обозовки;
8. Устье реки Листвянки расположено западнее устья реки Обозовки;
9. Реки Кривянка, Листвянка, Полёвка и Грязновка не имеют притоков;
10. Сёла Котомкино и Базарное расположены на разных берегах реки.



12

Ответы:

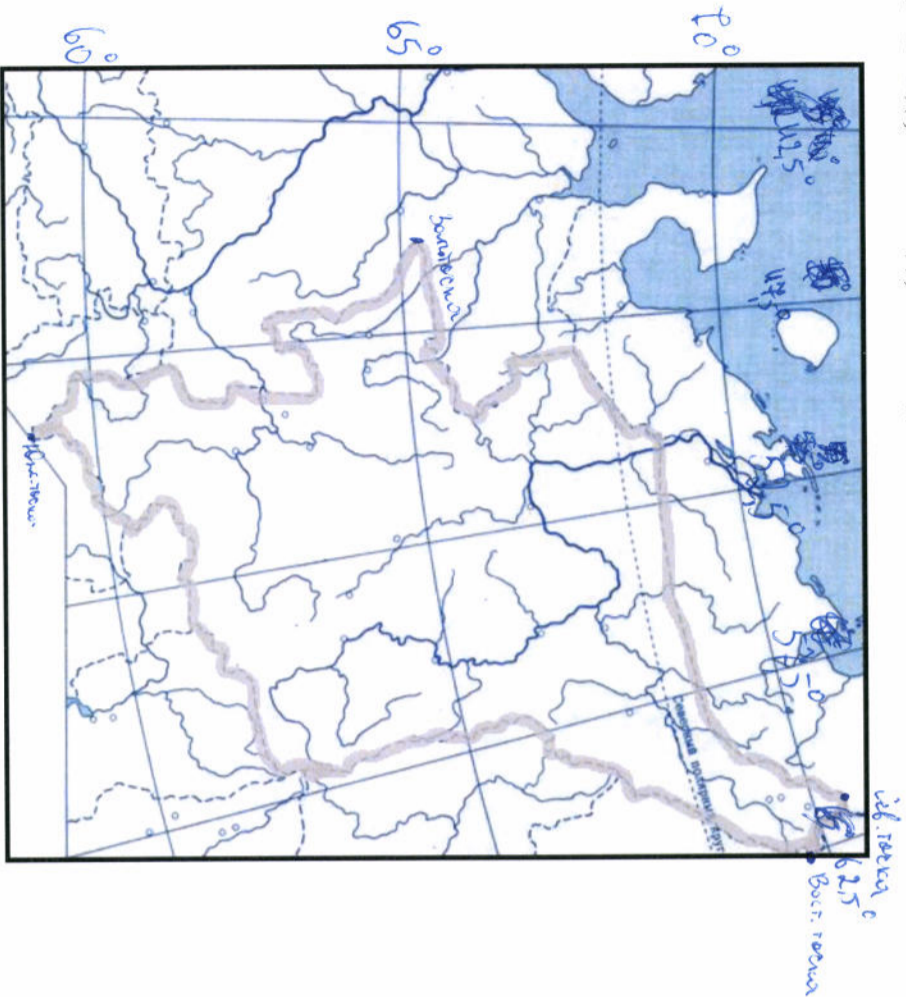
- | | | | |
|---------|-----------------|----------|-----------------------|
| Река №1 | <u>Тёмная</u> | Река №6 | <u>Листвянка</u> |
| Река №2 | <u>Обозовка</u> | Река №7 | <u>Грязновка</u> |
| Река №3 | <u>Ч.</u> | Село №8 | <u>Котомкино</u> |
| Река №4 | <u>Славка</u> | Село №9 | <u>Пантелеймоново</u> |
| Река №5 | <u>Полёвка</u> | Село №10 | <u>Базарное</u> |

Задание 2

2.1. Подберите верные значения координат крайних точек региона, обозначенного на контурной карте, из перечисленных ниже. Выпишите их в таблицу и отметьте на карте.

65° 30' с.ш.; 59° 10' с.ш.; 67° 30' с.ш.; 68° 20' с.ш.
 49° 30' в.д.; 66° 10' в.д.; 65° 10' в.д.; 45° 20' в.д.

$8 + 2 = 10$



крайние точки	координаты по широте	координаты по долготе
Северная	68° 20' с.ш.	65° 10' в.д.
Южная	59° 10' с.ш.	49° 30' в.д.
Западная	65° 30' с.ш.	45° 20' в.д.
Восточная	67° 30' с.ш.	66° 10' в.д.

2.2. Подпишите на контурной карте значения всех координатных линий.

2.3. По очертаниям и координатам узнайте и назовите административно-территориальную единицу Ханты-Мансийский АО

Задание 3

Поезд Москва — Владивосток

Поезд Москва — Владивосток отправился от перрона Ярославского вокзала в 00 часов 35 минут. За время пути он сделал 150 остановок на станциях и вокзалах различных городов страны, пересек десятки больших и малых рек, и через 6 суток 23 часа прибыл в город Владивосток.

Расставьте приведенные ниже географические объекты в порядке следования поезда: река Енисей; город Барнаул; река Вытка; город Юрга; водораздел между Европой и Азией; река Волга; река Обь; река Ия; город Глазов; город Свободный.

1. Река Волга	6. река Ия
2. Река Вытка	7. река Енисей
3. город Глазов	8. город Барнаул
4. водораздел между Европой и Азией	9. река Енисей
5. город Юрга	10. город Свободный

Задание 4

4.1. Перед вами очертания морей (заливов). Напишите их названия. Уточнение: проекция Меркатора, север сверху. Указать нужно название водоёма, занимающего наибольшую часть картинки.




4.1. Северное море (Арктический океан)



4.3. Индийское море (Индийский океан)



4.2. Красное море (Индийский океан)



4.4. Жёлтое море (Красное море/Индийский океан)



4.5. Северное море (Арктический океан)