

4.2. Расположите моря(заливы) в порядке от самого северного к самому южному.

- север
1. Северное море (4.4)
 2. Японское море (4.2) Японское море (4.1)
 3. Японский залив (4.2)
 4. Камчатский залив (4.3) 15
 5. Мутное море (4.5)
- юг

Задание 5

Рассмотрите герб города и ответьте на вопросы.

- 5.1. Назовите населенный пункт, являющийся моногородом и районным центром в составе одного из субъектов РФ, расположенного на северо-западе России, герб которого представлен на картинке.
- 5.2. Какая отрасль специализации промышленности исторически связана с этим городом?
- 5.3. С 1918 до 1944 г. населенный пункт находился в составе соседнего государства. Какого?
- 5.4. В верхней части герба изображено природное явление Аврора Бореалис. Как его еще называют?
- 5.5. В прошлом эти земли населял народ, в русском лексиконе называвшийся «лопари». Как сами называют себя представители этого коренного народа Северной Европы?

Ответы:

- 5.1. Фоб Нисевола промышленность
- 5.2. Дерево
- 5.3. Северное сияние 40
- 5.4. Северное сияние 40
- 5.5. Сами



2

4447



1

ШКОЛЬНАЯ РАБОТА УЧАСТНИКА ОЛИМПИАДЫ ШКОЛЬНИКОВ СПБГУ

2017-2018

заключительный этап

Предмет (комплекс предметов) Олимпиады

ГЕОГРАФИЯ (06-08 класс)

Город, в котором проводится Олимпиада Ижевск

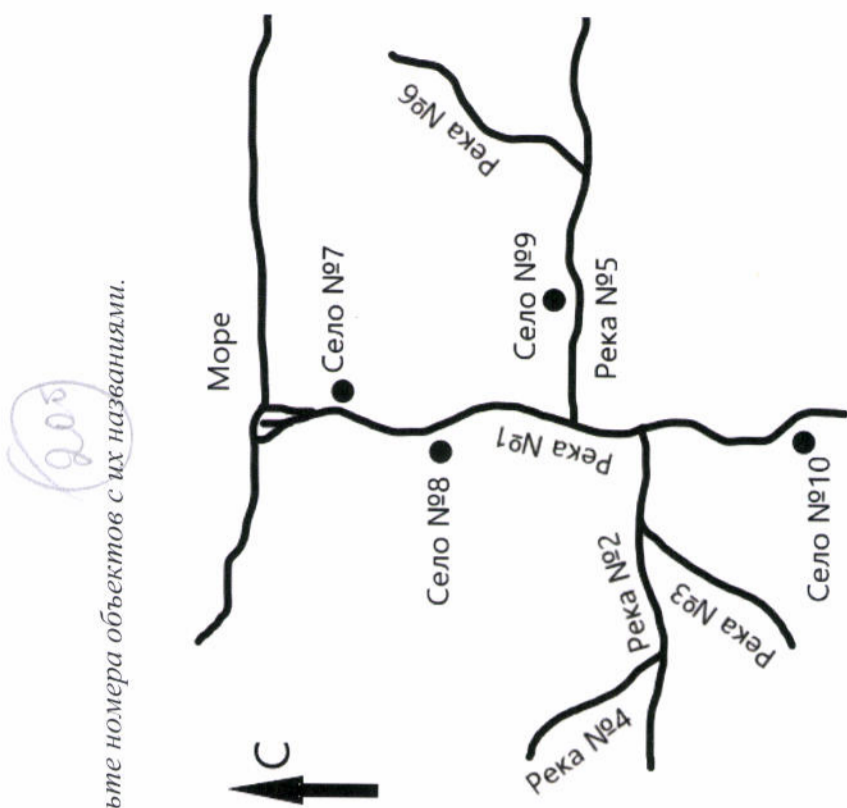
Дата 20.02.2018

Вариант 4

Задание 1

Внимательно прочитайте описания и сопоставьте номера объектов с их названиями.

1. Сёла Кисельное и Вострянка находятся на правых берегах рек;
2. Реки Орлянка, Тёплая и Лесистая являются правыми притоками;
3. Село Светлое расположено южнее села Кисельного;
4. Реки Янковка, Лесистая и Орлянка являются притоками второго порядка;
5. Устье реки холодной расположено между сёлами Романовка и Светлос;
6. Село Кисельное расположено севернее всех остальных сёл;
7. Реки Холодная и Берёзовка имеют по два притока;
8. Реки Холодная и Тёплая являются притоками одной и той же реки;
9. Река Орлянка не впадает в реку Холодную;
10. Устье реки Холодной имеет большую высоту над уровнем моря, чем устье реки Тёплой.



Ответы:

- | | |
|---------|---------------------|
| Река №1 | <u>Берёзовка</u> 25 |
| Река №2 | <u>Холодная</u> 25 |
| Река №3 | <u>Лесистая</u> 25 |
| Река №4 | <u>Анновка</u> 25 |
| Река №5 | <u>Теплая</u> 25 |

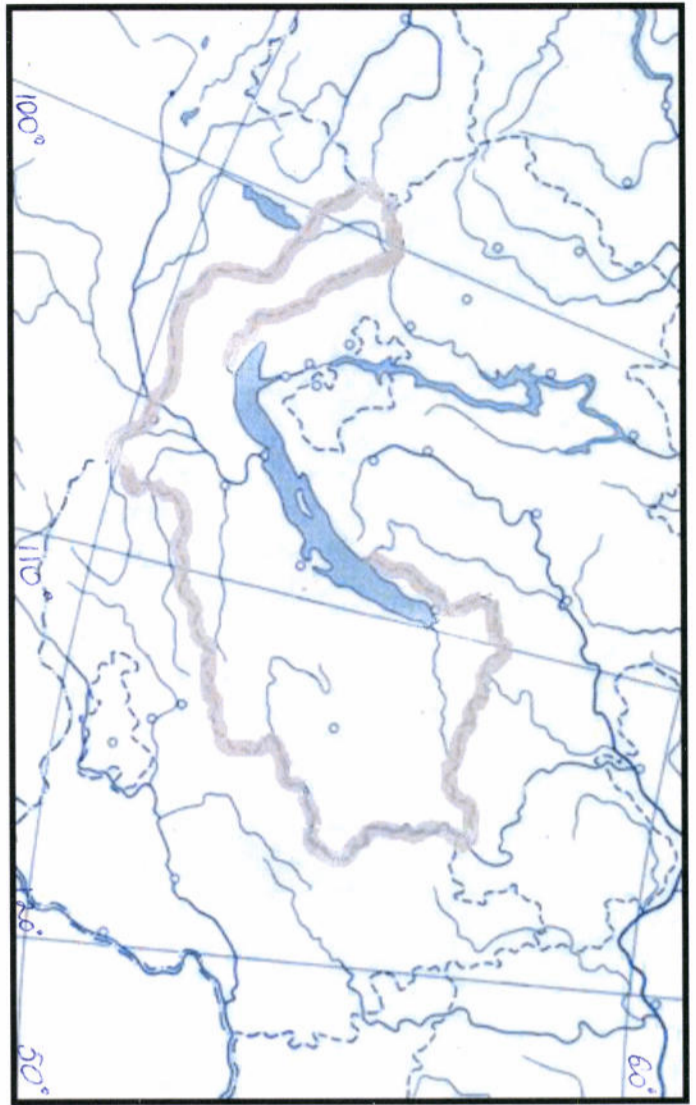
- | | |
|----------|---------------------|
| Река №6 | <u>Орлянка</u> 25 |
| Село №7 | <u>Кисельное</u> 25 |
| Село №8 | <u>Романовка</u> 25 |
| Село №9 | <u>Вострянка</u> 25 |
| Село №10 | <u>Светлое</u> 25 |

Задание 2

185

2.1. Подберите верные значения координат крайних точек региона, обозначенного на контурной карте, из перечисленных ниже. Выпишите их в таблицу и отметьте на карте.

52° с.ш.; 50° с.ш.; 56° с.ш.; 54°30' с.ш.;
108° в.д.; 98°30' в.д.; 116° в.д.; 117° в.д.



крайние точки	координаты по широте	координаты по долготе
Северная	56° с.ш.	116° в.д.
Южная	50° с.ш.	108° в.д.
Западная	52° с.ш.	98°30' в.д.
Восточная	54°30' с.ш.	117° в.д.

2.2. Подпишите на контурной карте значения всех координатных линий.

2.3. По очертаниям и координатам узнайте и назовите административно-территориальную единицу Бураце 5

Задание 3

Поезд Москва — Владивосток

105

Поезд Москва — Владивосток отправился от перрона Ярославского вокзала в 00 часов 35 минут. За время пути он сделал 150 остановок на станциях и вокзалах различных городов страны, пересек десятки больших и малых рек, и через 6 суток 23 часа прибыл в город Владивосток.

Расставьте приведенные ниже географические объекты в порядке следования поезда: река Зея, город Спидьянка, город Тайга, река Кама, город Новосибирск, город Киров, город Биробиджан, Яблонювый хребет, река Ишим, город Иркутск.

1. город Киров	25	6. город Иркутск	25
2. река Кама	25	7. река Ишим	—
3. Яблонювый хребет	—	8. город Тайга	—
4. город Спидьянка	—	9. река Зея	25
5. Новосибирск	—	10. город Биробиджан	25

Задание 4

45


4.1. Перед вами очертания морей (заливов). Напишите их названия. Уточнение: проекция Меркатора, север сверху. Указать нужно название водоёма, занимающего наибольшую часть картинки.



4.1. Балтийское море




4.2. Чёрное море



4.3. Каспийское море



4.4. Северное море



4.5. Средиземное море