

4.2. Расположите моря(заливы) в порядке от самого северного к самому южному.

- север
- 4.1 Чукотское море
 - 4.4 Северное море
 - 4.2
 - 4.3 Калифорнийский залив
 - 4.5 Бенский залив

юг

Задание 5

80

Рассмотрите герб города и ответьте на вопросы.

1. Назовите населенный пункт, являющийся моногородом и районным центром в составе одного из субъектов РФ, расположенного на северо-западе России, герб которого представлен на картинке.
2. Какая отрасль специализации промышленности исторически связана с этим городом?
3. С 1918 до 1944 г. населенный пункт находился в составе соседнего государства. Какого?
4. В верхней части герба изображено природное явление Аврора Бореалис. Как его еще называют?
5. В прошлом эти земли населял народ, в русском лексиконе называвшийся «лопарь». Как сами называют себя представители этого коренного народа Северной Европы?

Ответы:

1. Петрозаводск
2. Лесная промышленность, добыча Ni
3. Финляндия
4. Северная сияние
5. Лопарь



ЕРБУРГСКИЙ ГОСУДАРСТВЕННЫЙ УНИВЕРСИТЕТ



6.10. 1145

ПИСЬМЕННАЯ РАБОТА УЧАСТНИКА ОЛИМПИАДЫ ШКОЛЬНИКОВ СПБГУ

2017–2018

заключительный этап

Предмет (комплекс предметов) Олимпиады

ГЕОГРАФИЯ (06-08 класс)

Город, в котором проводится Олимпиада

г. Петрозаводск

Дата 25.03.2018

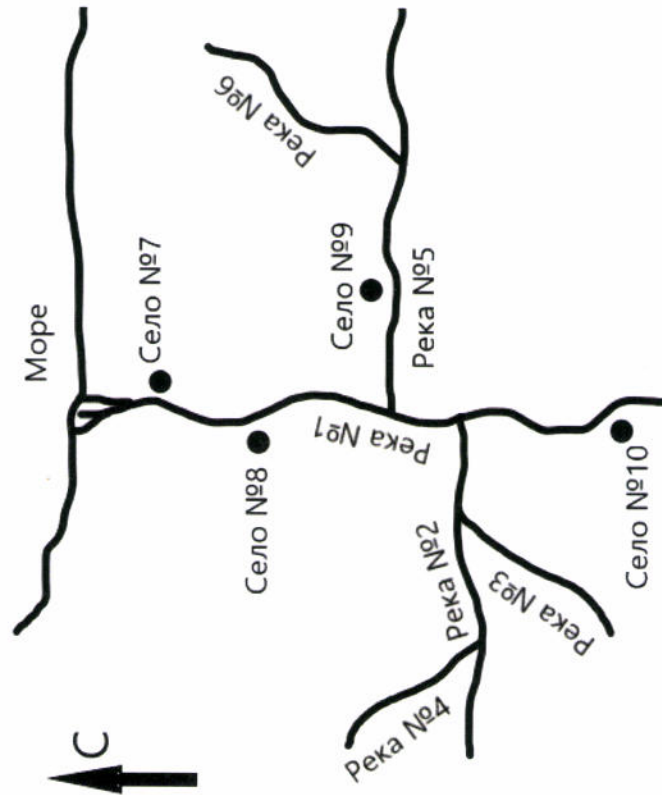
Вариант 4

Задание 1

205

Внимательно прочитайте описания и сопоставьте номера объектов с их названиями.

1. Сёла Кисельное и Вострянка находятся на правых берегах рек;
2. Реки Орлянка, Тёплая и Лесистая являются правыми притоками;
3. Село Светлое расположено южнее села Кисельного;
4. Реки Янковка, Лесистая и Орлянка являются притоками второго порядка;
5. Устье реки холодной расположено между сёлами Романовка и Светлое;
6. Село Кисельное расположено севернее всех остальных сёл;
7. Реки Холодная и Берёзовка имеют по два притока;
8. Реки Холодная и Тёплая являются притоками одной и той же реки;
9. Река Орлянка не впадает в реку Холодную;
10. Устье реки Холодной имеет большую высоту над уровнем моря, чем устье реки Тёплой.



Ответы:

- | | |
|---------|-----------|
| Река №1 | Берёзовка |
| Река №2 | Холодная |
| Река №3 | Лесистая |
| Река №4 | Янковка |
| Река №5 | Тёплая |

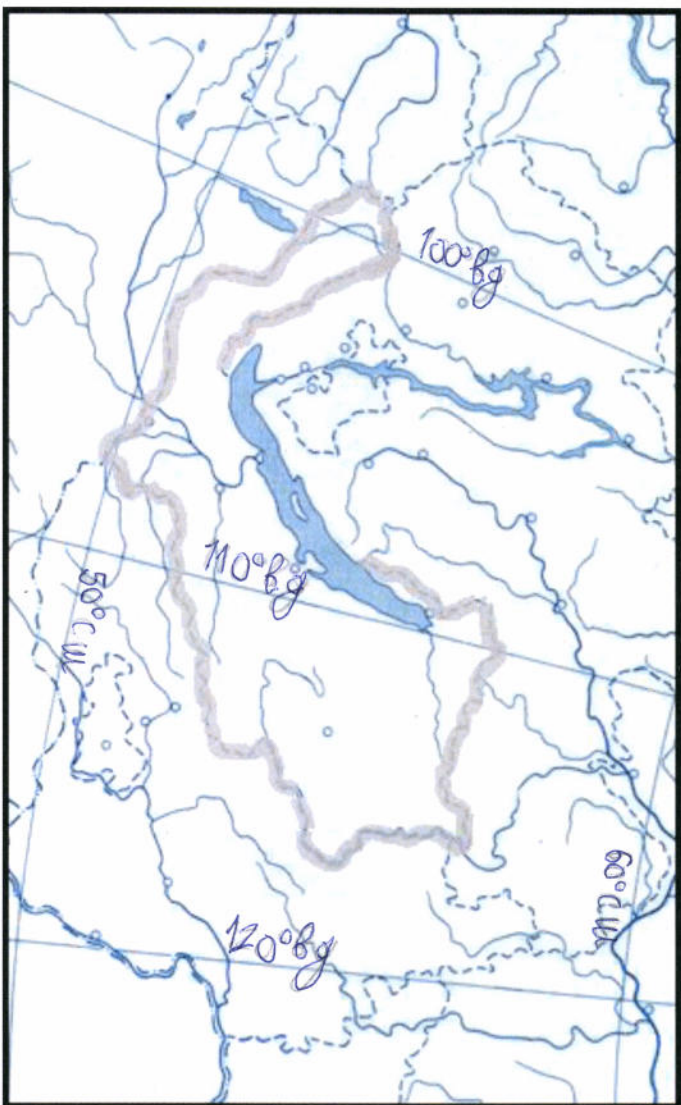
- | | |
|----------|-----------|
| Река №6 | Орлянка |
| Село №7 | Кисельное |
| Село №8 | Романовка |
| Село №9 | Вострянка |
| Село №10 | Светлое |

Задание 2

195.

2.1. Подберите верные значения координат крайних точек региона, обозначенного на контурной карте, из перечисленных ниже. Выпишите их в таблицу и отметьте на карте.

52° с.ш.; 50° с.ш.; 56° с.ш.; 54°30' с.ш.;
108° в.д.; 98°30' в.д.; 116° в.д.; 117° в.д.



242

крайние точки	координаты по широте	координаты по долготе
Северная	56° с.ш.	116° в.д.
Южная	50° с.ш.	108° в.д.
Западная	52° с.ш.	98°30' в.д.
Восточная	54°30' с.ш.	117° в.д.

9

2.2. Подпишите на контурной карте значения всех координатных линий.

2.3. По очертаниям и координатам узнайте и назовите административно-территориальную единицу Чукотка ОБ.

Задание 3

Поезд Москва — Владивосток

НБ.

Поезд Москва — Владивосток отправился от перрона Ярославского вокзала в 00 часов 35 минут. За время пути он сделал 150 остановок на станциях и вокзалах различных городов страны, пересек десятки больших и малых рек, и через 6 суток 23 часа прибыл в город Владивосток.

Расставьте приведенные ниже географические объекты в порядке следования поезда: река Зея, город Слюдянка, город Тайга, река Кама, город Новосибирск, город Киров, город Биробиджан, Ялоновский хребет, река Ишим, город Иркутск.

1. город Киров	6. город Слюдянка
2. Ялоновский хребет	7. город Тайга
3. река Ишим	8. город Иркутск
4. Биробиджан	9. река Зея
5. Новосибирск	10. река Ишим

Задание 4


195.

4.1. Перед вами очертания морей (заливов). Напишите их названия. Уточнение: проекция Меркатора, север сверху. Указать нужно название водоёма, занимающего наибольшую часть картинки.



4.1. Берингово море 5

4.2.



3

3



4.3. Восточносибирский залив 3

4.4. Северное море



3

4.5. Финский залив